

ओलम्पियाड 2025-26

जनशिक्षा केन्द्र स्तरीय प्रश्न पत्र

प्राथमिक स्तर

कक्षा 4 एवं 5

समय 2:00 घण्टा

कुल प्रश्न-60

- (1) सभी प्रश्नों को हल करना अनिवार्य है।
(2) प्रत्येक प्रश्न के लिए 3 अंक निर्धारित हैं, सही उत्तर देने पर 3 अंक दिए जाएंगे।
(3) प्रत्येक प्रश्न के लिए चार विकल्प दिए गए हैं जिनमें से एक उत्तर सही है, सही विकल्प के लिए OMR शीट के गोले को भरें।

अपठित गद्यांश को पढ़कर नीचे दिए गए प्रश्नों के सही विकल्प का चयन कीजिए-

सत्संगति के अनेक लाभ हैं। अच्छे लोगों के साथ रहने से हमारी आदतों में सुधार होता है। अच्छे मित्र मुसीबत के समय सही सलाह देते हैं। हमें बुरे लोगों के साथ से बचना चाहिए। बुरे लोगों का साथ काजल की कोठरी के समान है। मित्र चुनते समय हमें सावधान रहना चाहिए। सत्संगति हमारे जीवन को सही दिशा दिशा दिखाती है।

प्र-1. 'सत्संगति' का अर्थ है-

- (A) अच्छा संगीत (B) बुरी संगति
(C) अच्छी संगति (D) सौ संगति

प्र-2. 'काजल की कोठरी' से आशय है-

- (A) अँधेरी जगह (B) बुरी संगति
(C) अच्छी संगति (D) काली जगह

प्र-3. मित्र का विलोम शब्द है-

- (A) सखा (B) दोस्त
(C) सहपाठी (D) शत्रु

प्र-4. मित्र चुनते समय सावधान क्यों रहना चाहिए।

- (A) अच्छे मित्र हमें सही सलाह देते हैं।
(B) अच्छे मित्र कुछ नहीं करते हैं।
(B) अच्छे मित्र हमें सलाह नहीं देते हैं।
(D) अच्छे मित्र हमें मुसीबत में छोड़ देते हैं।

प्र-5. निम्नलिखित में से कौन-सा शब्द युग्म समानार्थी शब्द वाला है?

- (A) लाभ-हानि (B) जीवन-मृत्यु
(C) अच्छा-बुरा (D) बड़े-बूढ़े

प्र-6. अच्छे लोगों के साथ रहने से हमारी आदतों में सुधार होता है।' - वाक्य में रेखांकित शब्द है-

- (A) संज्ञा (B) विशेषण
(C) क्रिया (D) सर्वनाम

प्र-7. शब्दकोश के अनुसार इनमें से शब्दों का वर्णक्रम सही है-

- (A) लाभ, समय, काजल, अनेक
(B) समय, अनेक, लाभ, काजल
(C) अनेक, समय, लाभ, काजल
(D) अनेक, काजल, लाभ, समय

अपठित गद्यांश को पढ़कर नीचे दिए गए प्रश्नों के सही विकल्प का चयन कीजिए-

जीजाबाई ने शिवनेरी दुर्ग की अधिष्ठात्री शिवाई देवी से प्रार्थना की थी कि मुझे वीर पुत्र की प्राप्ति हो। देवी की कृपा से उन्हें ऐसा ही पुत्र प्राप्त हुआ। जीजाबाई ने शिवाई देवी के प्रति श्रद्धा के कारण पुत्र का नाम शिवाजी रखा। कहते हैं माता ही बच्चे की प्रथम गुरु होती है। माता की दी हुई शिक्षा का पुत्र के चरित्र और व्यक्तित्व पर अमित प्रभाव पड़ता है। बचपन से ही जीजाबाई शिवाजी को भारत के महापुरुषों की महानता और वीरता की कहानियाँ सुनाकर उनके हृदय में साहसी, वीर तथा महान बनने की इच्छा उत्पन्न करती थीं।

प्र-8. 'दुर्ग' का अर्थ है।

- (A) दुर्गा (B) किला
(C) माता (D) रत्न

प्र-9. निम्नलिखित में से 'ता' प्रत्यय वाला शब्द कौन-सा है?

- (A) वीरता (B) माता
(C) पिता (D) पता

प्र-10. शिवाजी के चरित्र पर किसकी शिक्षा का प्रभाव पड़ा?

- (A) शिवाई देवी की (B) मित्रों की
(C) जीजाबाई की (D) शिवनेरी की

P.T.O

प्र-11. शिवाजी के व्यक्तित्व का विकास एक साहसी पुरुष के रूप में हुआ क्योंकि उनकी माता बचपन से ही उन्हें-

- (A) मातृभक्ति की कहानियाँ सुनाती थीं।
 (B) धर्म से जुड़ी कहानियाँ सुनाती थीं।
 (C) महापुरुषों की कहानियाँ सुनाती थीं।
 (D) परियों की कहानियाँ सुनाती थीं।

प्र-12. जीजाबाई ने अपने पुत्र का नाम शिवाजी किसके नाम पर रखा था?

- (A) शिवजी के नाम पर
 (B) शिवाई देवी के नाम पर
 (C) शिवानी देवी के नाम पर
 (D) शिवनेरी दुर्ग के नाम पर

प्र-13. 'दाँत खट्टे करना' मुहावरे का अर्थ है?

- (A) दुश्मन को हराना (B) दुश्मन से हारना
 (C) दाँत खट्टे होना (D) दाँतों में दर्द होना

नीचे दी गई सूचना को पढ़कर उसके नीचे लिखे प्रश्नों के सही उत्तर चुनिए-

दो बूँद हर बार
 पोलियो पर जीत रहे बरकरार

पल्स पोलियो अभियान 2021

31 जनवरी से 01 फरवरी 2021
 5 वर्ष से कम उम्र के बच्चों को पोलियो की खुराक अवश्य पिलवाएँ
 जिला स्वास्थ्य अधिकारी, धार

प्र-14. पल्स पोलियो की खुराक किस उम्र के बच्चों को पिलाई जाती है।

- (A) 5 वर्ष से अधिक उम्र के
 (B) केवल 5 वर्ष की उम्र के
 (C) 5 वर्ष से कम उम्र के
 (D) किसी भी उम्र के बच्चों को

प्र-15. पाइप या खंभों पर लगे ऐसे सूचना पटों को क्या कहते हैं?

- (A) पेम्पलेट (B) होर्डिंग्स
 (C) पेंटिंग (D) लाइटिंग

Choose the correct pronunciation of the words given below:
 (नीचे दिये गये शब्दों का सही उच्चारण चुनें।)

- Q.16 wind
 (A) विन्ड (B) विनड
 (C) विन (D) वींड

Q.17 cloud

- (A) क्लाओड (B) स्लाउड
 (C) क्लाउड (D) कलाउड

Choose the correct English spelling of the given words.
 (नीचे दिए गए शब्दों की सही अंग्रेजी स्पेलिंग चुनें।)

Q.18 ब्यूटिफुल

- (A) beautiflu (B) baautiful
 (C) beautiful (D) beiuteful

Q.19 सेलिब्रेट

- (A) celebrete (B) celebrate
 (C) celebarte (D) celledrate

Choose the correct option to fill in the missing letters.
 (रिक्त स्थानों को भरने के लिए सही विकल्प चुनें।)

Q.20 लकड़हारा (w__dc_t_er)

- (A) woodcutter (B) woodcuttar
 (C) woodcateer (D) woodcatter

Q.21 झगड़ा (q__r__l)

- (A) querrel (B) querral
 (C) quarral (D) quarrel

Choose the correct rhyming words.

(सही तुकबंदी वाले शब्दों का चयन करें।)

Q.22 miles

- (A) peels (B) smiles
 (C) child (D) wild

Q.23 brick

- (A) drink (B) break
 (C) trick (D) sink

Find the odd one out from the given words.

(निम्नलिखित शब्दों में से असंगत शब्द का पता लगायें।)

- Q.24 (A) table (B) chair
 (C) bench (D) tree

- Q.25 (A) coffee (B) tea
 (C) milk (D) bread

Choose the correct plural form of the given word.

(दिए गए शब्दों के लिये सही बहुवचन रूप का चयन करें।)

Q.26 mouse

- (A) mouses (B) mousies
 (C) moose (D) mice

Choose the correct singular form of the given word.

(दिए गए शब्द के लिये सही एकवचन रूप का चयन करें।)

Q.27 feet

- (A) feets (B) foots
 (C) foot (D) footes

Choose the correct synonyms for the given words.

(दिए गए शब्दों के लिये सही समानार्थी शब्द चुनें।)

Q.28 begin

- (A) end (B) close
 (C) start (D) stop

Q.29 respect

- (A) disobey (B) deny
 (C) regard (D) contempt

Choose the correct antonyms for the given word.

(दिए गए शब्दों के लिये सही विलोम शब्द चुनें।)

Q.30 scatter

- (A) disperse (B) collect
 (C) distribute (D) separate

प्र-31. दी गई आकृतियों पर लिखे अंकों की सहायता से बनने वाली सबसे बड़ी संख्या है-



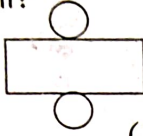
(A) 924 (B) 492 (C) 942 (D) 294

प्र-32. दी गई आकृति का कितना भाग छायांकित है?



(A) $\frac{1}{4}$ (B) $\frac{1}{2}$ (C) $\frac{2}{4}$ (D) $\frac{3}{4}$

प्र-33. दिए गए नेट से बनने वाली त्रिआयामी आकृति कौन-सी होगी?



(A) घन (B) शंकु
(C) बेलन (D) घनाभ

प्र-34. एक टंकी को पूरा भरने के लिए 6 बाल्टी पानी लगता है। एक बाल्टी में 4 मग पानी आता है। तो टंकी में कितने मग पानी आयेगा?

(A) 10 (B) 24 (C) 6 (D) 4

प्र-35. एक व्यक्ति ने दवाई की दुकान से खाँसी की दवा खरीदी। उस पर उत्पादन तिथि 17/03/2025 तथा समाप्ति तिथि 16/03/2028 लिखी है। दवा के उपयोग की अवधि कितनी है?

(A) 28 महीने (B) 30 महीने
(C) 35 महीने (D) 36 महीने

प्र-36. खाली बॉक्स में आने वाली संख्या कौन-सी है?

11	22	44	55	66
----	----	----	----	----

(A) 22 (B) 44 (C) 33 (D) 22

प्र-37. दिए गए पैटर्न को पूरा करने में कौन सा टाइल उपयोग करना होगा?



(A) (B)
(C) (D)

प्र-38. एक दुकानदार के पास 425 सेब व 2000 संतर हैं। वह उन्हें 22 डिब्बों में बराबर-बराबर रखता है। प्रत्येक डिब्बे में फल रखने के बाद शेष बचे फलों की संख्या होगी?

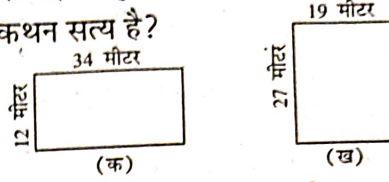
(A) 5 (B) 4 (C) 7 (D) 3

प्र-39. \square में कौन-सी संख्या लिखने पर सभी भिन्न समतुल्य हो जाएँगे?

$$\frac{1}{2} = \frac{2}{4} = \frac{12}{\square}$$

(A) 8 (B) 12 (C) 14 (D) 24

प्र-40. दी गई आकृतियों को देखकर बताइए, कौन-सा कथन सत्य है?



(A) आकृति (क) का परिमाण आकृति (ख) से अधिक है।
(B) आकृति (ख) का परिमाण आकृति (क) से अधिक है।
(C) आकृति (क) और (ख) दोनों का परिमाण बराबर है।
(D) आकृति (क) का क्षेत्रफल आकृति (ख) के बराबर है।

प्र-41. यदि $\cup + \cup = \text{jar}$
 $\text{cup} + \text{cup} + \text{cup} = \text{jar}$
 $\text{cup} = 200$ मिली लीटर, तो $\text{jar} = ?$

(A) 1 लीटर 200 मिली लीटर

(B) 1000 मिली लीटर

(C) 20 मिलीलीटर

(D) 400 मिली लीटर

प्र-42. घड़ी में मिनट की सुई को 4 से चलकर उसे दुबारा 4 तक आने में कितने मिनट लगेंगे?

(A) 40 मिनट

(B) 50 मिनट

(C) 60 मिनट

(D) 30 मिनट

प्र-43. दिन के 3:30 बजे को 24 घंटे वाली घड़ी में लिखा जाता है-

(A) 03:30

(B) 15:30

(C) 08:30

(D) 20:30

प्र-44. दिए गए पैटर्न को पूरा कीजिए।

1	2	4	8	16	32
---	---	---	---	----	----

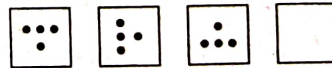
(A) 12

(B) 24

(C) 8

(D) 16

प्र-45. दिए गए पैटर्न की अगली आकृति होगी?




(A)

(B)

(C)

(D)

- प्र-46. विद्युत (बिजली) का काम करते समय विद्युत कर्मी को सुरक्षा की दृष्टि से हाथों में कौन-सी वस्तु से बने दस्ताने पहनना चाहिए-
- (A) रेशम के (B) कपड़े के
(C) ऊन के (D) रबर के
- प्र-47. किसी भी सार्वजनिक स्थान / घर / स्कूल या एकांत स्थान पर अगर कोई आपके साथ अनुचित व्यवहार / स्पर्श करता है तो आप क्या करेंगे?
- (A) चुपचाप सहन करेंगे
(B) अपने परिवार के किसी विश्वसनीय सदस्य को बताएंगे
(C) डरे और सहमे-सहमे से रहेंगे
(D) अपने आप को कमरे में बंद कर लेंगे
- प्र-48. अखिलेश को अपनी नानी के यहाँ जाना है उसने रेलवे स्टेशन पर समय सारणी को देखा, इनमें से उसे क्या-क्या जानकारी प्राप्त हुई-
- (A) भोजन की उपलब्धता की जानकारी
(B) ट्रेन की वर्तमान स्थिति की जानकारी
(C) ट्रेन के आने-जाने के समय की जानकारी
(D) स्टेशन में उपलब्ध सुविधा की जानकारी
- प्र-49. जब एक मधुमक्खी को फूलों का रस मिल जाता है, तब वह दूसरी मधुमक्खियों को वहाँ रस होने की सूचना कैसे देती है?
- (A) गाकर देती है (B) हँसकर देती है
(C) लड़कर देती है (D) नाच कर देती है
- प्र-50. धीरे खर्चो, मुझे बचाओ, सीमित है मेरा भंडार। लाखों साल में बन पाता हूँ, नहीं अब मेरी भरमार। बताओ बताओ मेरा नाम-
- (A) औषधीय तेल (B) ईंधन का तेल
(C) खाने का तेल (D) बालों का तेल
- प्र-51. यदि सारे जंगल नष्ट हो जाए, तो आपके अनुसार पर्यावरण पर इसका क्या प्रभाव पड़ेगा
- (A) पर्यावरण पर कोई प्रभाव नहीं पड़ेगा
(B) पर्यावरण अच्छा हो जाएगा
(C) पर्यावरण का संतुलन बिगड़ जाएगा
(D) पर्यावरण में ऑक्सीजन की मात्रा बढ़ जाएगी
- प्र-52. जब हम ऐतिहासिक स्मारकों/स्थलों का भ्रमण करते हैं, तो वहाँ हमें क्या करना चाहिए?
- (A) दिए गए निर्देशों का पालन करना चाहिए
(B) दीवारों पर अपना नाम लिखना चाहिए
(C) दीवारों में छेद करना चाहिए
(D) जोर-जोर से आवाजें लगानी चाहिए
- प्र-53. रमा को डॉक्टर ने अंकुरित अनाज खाने को कहा है, उसे चनों को अंकुरित करने के लिए उन्हें-
- (A) कई दिनों तक पानी में डूबोकर रखना चाहिए
(B) भिगोकर गीले कपड़े में लपेटकर रखना चाहिए
(C) धोकर धूप में रख देना चाहिए
(D) उबालकर फ्रिज में रख देना चाहिए
- प्र-54. मधुबनी पेंटिंग की डिजाइन बनाने के लिए उपयोग किए जाने वाला सामान है-
- (A) पेंसिल का रंग
(B) ऑयल पेंट
(C) पीसे चावल के घोल में रंग मिलाकर
(D) रासायनिक रंग
- प्र-55. कुछ जीवों के कान बाहर दिखाई देते हैं, और कुछ जीवों के कान बाहर दिखाई नहीं देते हैं दिए गए समूह में से कान बाहर दिखाई नहीं देने वाले समूह को छाँटिए-
- (A) केंचुआ, बंदर, भालू (B) ऊँट, छिपकली, गाय
(C) छिपकली, साँप, केंचुआ (D) बत्तख, बिल्ली, घोड़ा
- प्र-56. राखी उदास है, वह अपने घर का रास्ता भूल गई है। पेड़ के नीचे बैठकर सोच रही है, किस तरफ जाऊँ। आप उसे घर जाने के लिए किस तरफ जाने का सुझाव देंगे?
- (A) ऊपर की तरफ
(B) नीचे की तरफ
(C) दायें की तरफ
(D) बायें की तरफ
- 
- प्र-57. रीना के हाथों से मीठा खाते समय कुछ भाग जमीन पर गिर गया थोड़ी देर में उस पर बहुत सी चींटियाँ एकत्र हो जाती हैं। यह चींटियों की किस विशेषता के कारण होता है?
- (A) चींटियों को मीठा खाना पसंद है
(B) चींटियों को मिल बाँटकर खाने की आदत होती है
(C) चींटियों की सूँघने की क्षमता तीव्र होती है
(D) चींटियों में संगठन भावना होती है
- प्र-58. जब आप किसी भी समस्या या आपदा में हैं, तब किन संस्थानों की जरूरत पड़ सकती है?
- (A) मंदिर, वेयर हाऊस, बैंक
(B) डाकघर, स्कूल, ग्राम पंचायत
(C) धर्मशाला, चिड़ियाघर, एंबुलेंस
(D) दमकल केन्द्र, अस्पताल, पुलिस थाना
- प्र-59. किस खाद्य पदार्थ के समूह को खाने से चटपटा और खट्टे-मीठे स्वाद का अनुभव होता है?
- (A) चटनी, नींबूपानी, इमली
(B) ब्रेड, रोटी, पूड़ी
(C) गुड़, चीनी, शहद
(D) केला, चीकू, संतरा
- प्र-60. हर बच्चे को विद्यालय जाने का अधिकार है। इसे क्या कहते हैं?
- (A) नाम का अधिकार (B) शिक्षा का अधिकार
(C) भोजन का अधिकार (D) खेलने का अधिकार